


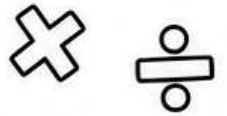


PREPARADOS PARA SECUNDARIA

Demuestra todo lo que has aprendido
antes de dar el salto al instituto.

Mi cuaderno de retos
finales de Primaria



SECUNDARIA



NOMBRE: _____

CURSO: _____

CENTRO: _____

PREPARADOS PARA SECUNDARIA

Demuestra todo lo que has aprendido antes de dar el salto al instituto.

1 RETO MATEMÁTICO

Pon a prueba tus habilidades matemáticas.

1 OPERACIONES COMBINADAS

Resuelve las siguientes operaciones combinadas.

$$(5 + 3 \times 4) - 6 = \boxed{}$$

$$25 - (8 + 7 \times 2) = \boxed{}$$

$$48 : (6 - 2) + 3 \times 5 = \boxed{}$$

$$(12 + 18) : 5 + 2 \times 7 = \boxed{}$$

$$72 - (4 \times 6 + 8) : 2 = \boxed{}$$

2 FRACCIONES

Calcula y simplifica el resultado si es posible.

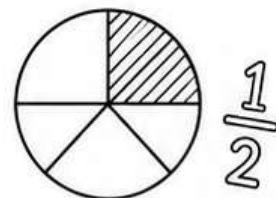
$$\frac{3}{4} + \frac{2}{4} = \boxed{}$$

$$\frac{5}{6} - \frac{1}{3} = \boxed{}$$

$$\frac{2}{5} + \frac{3}{10} = \boxed{}$$

$$\frac{7}{8} - \frac{1}{4} = \boxed{}$$

$$\frac{2}{3} + \frac{1}{6} = \boxed{}$$



3 PORCENTAJES

Calcula las siguientes porcentajes.

$$\text{El } 25\% \text{ de } 200 = \boxed{}$$

$$\text{El } 15\% \text{ de } 80 = \boxed{}$$

$$\text{El } 10\% \text{ de } 350 = \boxed{}$$

$$\% \text{ El } 50\% \text{ de } 124 = \boxed{}$$

$$\% \text{ El } 75\% \text{ de } 60 = \boxed{}$$

4 PROBLEMA DE RAZONAMIENTO

Lee, piensa y resuelve el problema.

En una biblioteca hay 8 estanterías.
Cada estantería tiene 24 libros.
Durante una semana se prestan 35 libros.

¿Cuántos libros había en total al principio?

¿Cuántos quedan en la biblioteca después de los préstamos?



5 CÁLCULO MENTAL

Resuelve mentalmente las siguientes operaciones.

$$18 \times 5 = \boxed{}$$

$$120 : 10 = \boxed{}$$

$$7 \times 8 = \boxed{}$$

$$144 : 12 = \boxed{}$$

$$9 \times 9 = \boxed{}$$

$$100 - 37 = \boxed{}$$

$$250 + 145 = \boxed{}$$

$$360 : 9 = \boxed{}$$

$$15 \times 6 = \boxed{}$$

$$81 : 9 = \boxed{}$$


$$\frac{1}{2} \text{ de } 80 = \boxed{}$$

$$\frac{1}{4} \text{ de } 200 = \boxed{}$$


$$\text{El triple de } 25 = \boxed{}$$

$$\text{La mitad de } 96 = \boxed{}$$

$$\text{El doble de } 45 = \boxed{}$$

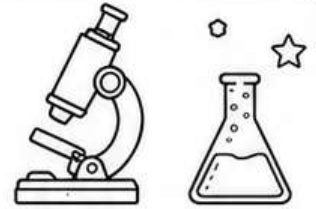


¡Cada reto superado te acerca a tu mejor versión!



PREPARADOS PARA SECUNDARIA

Demuestra todo lo que has aprendido antes de dar el salto al instituto.



2 RETO DE CIENCIAS

¡Explora, observa y descubre!

1 EL SISTEMA SOLAR

Escribe el nombre de los planetas en el orden correcto desde el más cercano al Sol hasta el más lejano.

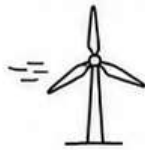
1. _____
2. _____
3. _____
4. _____
5. _____
6. _____
7. _____
8. _____

2 LAS PARTES DE UNA PLANTA

Observa el dibujo y escribe el nombre de cada parte señalada.

3 LA ENERGÍA

Relaciona cada fuente de energía con el tipo al que pertenece.



Sol	•	Renovable
Viento	•	
Carbón	•	No renovable
Petróleo	•	
Agua	•	

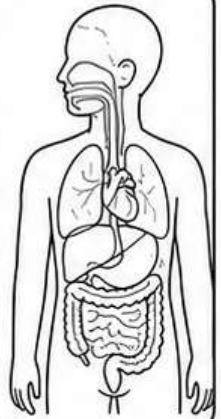
4 EL CUERPO HUMANO

Completa las funciones de los siguientes aparatos.

Aparato digestivo: _____

 Aparato respiratorio: _____

 Aparato circulatorio: _____



5 LOS SERES VIVOS Y LOS CINCO REINOS


Clasifica cada organismo en el reino que corresponde.

León	Rosa	Champiñón	Amoeba	Bacteria	Pino	Levadura	Mariposa	Algas	Moho del pan
------	------	-----------	--------	----------	------	----------	----------	-------	--------------

REINO ANIMAL	REINO VEGETAL	REINO HONGOS	REINO PROTISTAS	REINO MONERAS


¿SABÍAS QUE...?

La biodiversidad es la variedad de seres vivos que existen en nuestro planeta. Cada uno cumple una función importante en la naturaleza.




¡Cada reto superado te acerca a tu mejor versión!





PREPARADOS PARA SECUNDARIA

Demuestra todo lo que has aprendido antes de dar el salto al instituto.



3 RETO DE LENGUA

★ ¡Domina el lenguaje! ★

1 SINÓNIMOS Y ANTÓNIMOS

Escribe un sinónimo y un antónimo de cada palabra.

PALABRA	SINÓNIMO	ANTÓNIMO
alegre		
rápido		
fácil		
antiguo		
generoso		

2 PALABRA INTRUSA

En cada grupo, hay una palabra que no tiene relación. Rodea la intrusa y explica por qué.

a) manzana - pera - plátano - tomate

b) perro - gato - león - martillo

c) azul - verde - rojo - silla

d) mesa - silla - armario - correr

3 ORTOGRAFÍA

Completa las palabras:



- Mi ___ermano juega al ___alconcesto.
- En ___erano me gusta comer ___erezas.
- No pudimos ir al par___ue porque estaba ___oviendo.
- Las ___alletas están en___ima de la mesa.
- El pe___o ladró ___asta el amanecer.
- Mi primo ___ernando estudia en ___arcelona.

4 COMPRENSIÓN BREVE

Lee el texto y responde a las preguntas.

Ayer por la tarde, Marta fue al parque con su perro Bruno. Hicieron un largo paseo, jugaron con la pelota y se sentaron en un banco a descansar. Después, Marta leyó un poco mientras Bruno dormía a su lado. Al final del día, volvieron a casa muy cansados pero felices.



- ¿A dónde fue Marta? _____
- ¿Qué hicieron en el parque? _____
- ¿Qué hizo Marta mientras Bruno descansaba? _____
- ¿Cómo volvieron a casa? _____

5 CATEGORÍAS GRAMATICALES

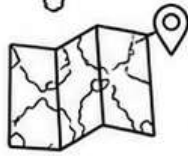
Indica la categoría gramatical de las palabras subrayadas.

ORACIÓN	SUSTANTIVO	ADJETIVO	VERBO	DETERMINANTE	PRONOMBRE
El <u>perro</u> <u>marrón</u> <u>corre</u> muy <u>rápido</u> .					
Mis <u>amigos</u> y yo <u>fui</u> mos al cine <u>ayer</u> .					
<u>Aquella</u> casa <u>grande</u> está en <u>la</u> colina.					
Nosotros <u>estudiaremos</u> para <u>el</u> examen.					
Un <u>libro</u> <u>interesante</u> puede cambiar <u>tu</u> vida.					




¡Cada reto superado te acerca a tu mejor versión!





PREPARADOS PARA SECUNDARIA

Demuestra todo lo que has aprendido antes de dar el salto al instituto.

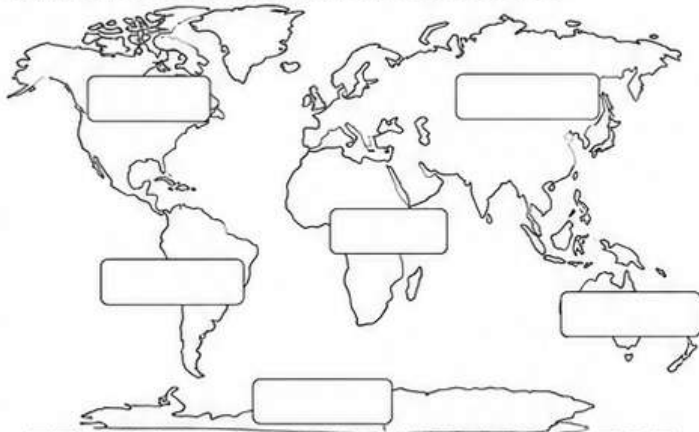


4 RETO DE CIENCIAS SOCIALES

¡Conoce el mundo, entiende el pasado y construye el futuro!

1 GEOGRAFÍA: LOS CONTINENTES


Escribe el nombre de cada continente en el lugar correcto.



Asia - África - América - Europa - Oceanía - Antártida

2 EL RELIEVE


Completa el nombre de cada forma de relieve y escríbela en su definición.



- Elevación natural del terreno de gran altura: _____
- Zona plana situada a gran altura: _____
- Extensión de terreno llano o con suaves ondulaciones: _____
- Terreno bajo entre montañas o colinas, por donde suele pasar un río: _____
- Tierra rodeada de agua por todas partes menos por una, que la une al continente: _____

3 ETAPAS DE LA HISTORIA


Ordena las imágenes escribiendo del 1 al 5 según el orden cronológico (1 = la más antigua).



EDAD CONTEMPORÁNEA



EDAD MEDIA



EDAD MODERNA



PREHISTORIA



EDAD ANTIGUA

4 LA POBLACIÓN

Observa la tabla y responde a las preguntas.

PAÍS	POBLACIÓN APROXIMADA
España	47.615.000
Francia	68.042.000
Alemania	83.294.000
Italia	59.237.000
Portugal	10.343.000

- ¿Qué país tiene más población? _____
- ¿Qué país tiene menos población? _____
- ¿Cuántos habitantes tiene España más que Portugal?

- Ordena los países de mayor a menor población.
_____ > _____ > _____ > _____ > _____
- ¿Cuántos habitantes tienen en total Francia e Italia? _____



5 LAS CAPAS DE LA ATMÓSFERA

Observa el dibujo y completa la tabla.



CAPA	CARACTERÍSTICAS PRINCIPALES
1.	
2.	
3.	
4.	
5.	

¿SABÍAS QUE...?

España tiene 17 comunidades autónomas y 2 ciudades autónomas. Cada una tiene su cultura, lengua, tradiciones y paisajes. ¡Todas juntas formamos un país diverso y único!



¡Cada reto superado te acerca a tu mejor versión!



PREPARADOS PARA SECUNDARIA

Demuestra todo lo que has aprendido antes de dar el salto al instituto.

5 RETO DIGITAL

¡Usa la tecnología de forma segura, responsable y creativa!

1 HARDWARE Y SOFTWARE

Clasifica los siguientes elementos en hardware o software.

Teclado - Windows - Impresora - Chrome - Ratón - Word - Altavoces - Paint - Monitor - Android

HARDWARE (componentes físicos)	SOFTWARE (programas o aplicaciones)

2 SEGURIDAD EN INTERNET

Lee cada situación y decide si es segura (S) o insegura (I). Marca con una X.

	S	I
Compartir tu contraseña con un amigo.		
Usar una contraseña fuerte y difícil de adivinar.		
Abrir correos de desconocidos con archivos adjuntos.		
Pedir permiso a tus padres para descargar aplicaciones.		
Publicar tu dirección o datos personales en redes sociales.		
Cerrar sesión cuando terminas de usar un dispositivo que no es tuyo.		

3 BUSCA Y ENCUENTRA

Encuentra en la sopa de letras las siguientes palabras relacionadas con la tecnología.

I	N	T	E	R	N	E	T	W
C	O	N	T	A	G	E	Ñ	A
P	R	O	G	A	M	A	R	I
N	A	V	E	A	D	O	R	F
A	P	L	I	A	C	I	Ó	N
D	I	G	I	Á	L	B	D	E
S	E	G	U	R	D	A	D	R
C	O	R	R	C	M	A	I	L

- INTERNET
- CONTRASEÑA
- PROGRAMAR
- NAVEGADOR
- APLICACIÓN
- DIGITAL
- SEGURIDAD
- CORREO
- MAIL

4 ¿QUÉ HAGO?

Lee cada situación y escribe qué harías tú.



Recibes un correo de un desconocido que te pide tus datos personales.



Alguien te envía mensajes ofensivos por una red social.



Quieres descargar un juego en tu tableta sin permiso.

5 ORDENA LOS PASOS

Ordena los pasos para enviar un correo electrónico correctamente. Escribe del 1 al 5.

- Escribir el asunto del correo.
- Escribir el mensaje.
- Hacer clic en "Enviar".
- Escribir la dirección de correo del destinatario.
- Abrir el programa de correo electrónico.



¿SABÍAS QUE...?

La tecnología puede ser una gran aliada para aprender, comunicarnos y crear cosas increíbles. ¡Úsala siempre de forma responsable!



¡Cada reto superado te acerca a tu mejor versión!



PREPARADOS PARA SECUNDARIA



Demuestra todo lo que has aprendido antes de dar el salto al instituto.

6 MI PASO A SECUNDARIA

Reflexiona sobre tu etapa en Primaria y tus nuevos retos.

1 MI MEJOR RECUERDO

Dibuja o escribe tu mejor recuerdo de Primaria.



Large empty box for drawing or writing a memory.

2 LO QUE MÁS HE APRENDIDO

Escribe tres cosas importantes que has aprendido durante Primaria.



Three horizontal lines for writing answers.

3 MI MAYOR LOGRO

¿De qué te sientes más orgulloso este curso?



Three horizontal lines for writing answers.

4 ASÍ IMAGINO LA SECUNDARIA

Completa las frases:



• Creo que la Secundaria será...

Horizontal line for writing.

• Lo que más ilusión me hace es...

Horizontal line for writing.

• Lo que más me preocupa es...



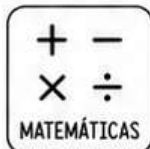


Horizontal line for writing.

5 MIS OBJETIVOS PARA EL INSTITUTO

Escribe tres objetivos para tu nueva etapa.



Three checkboxes with horizontal lines for writing objectives.



“ Cada nuevo comienzo es una oportunidad para descubrir todo lo que eres capaz de lograr. ”

Créditos y normas de uso



Actividades
de
Infantil y Primaria



Agradezco la confianza e interés en estas actividades que fueron creadas con mucho cariño y dedicación. Espero sinceramente que estos materiales les ayuden y que impacten en el aprendizaje de los alumnos y alumnas jugando, creando e innovando.

Todos los derechos reservados por [Actividades de Infantil y Primaria](#). Queda prohibido distribuir, reproducir o vender este material por cualquier medio ya sea electrónicamente o de manera impresa, así como reclamarlo como propio e intentar modificar o quitar avisos de copyright, logos o marcas de agua ya que se encuentra protegido por los derechos de autor. El incumplimiento es una violación a la Ley de los Derechos de Autor y tendrá consecuencias legales.

©opyright

SÍGUENOS



[Actividades de Infantil y Primaria](#)

Suscríbete en <https://www.actividadesdeinfantilyprimaria.com/>