




Evaluación  
fin de curso



Comunidad de Práctica  
Retazos



# Evaluación de fin de curso



## Grado Primero

Nombre: \_\_\_\_\_

Fecha: \_\_\_\_\_

Comunidad de Práctica Retazos ♡

### 1. Español

1. Lee la palabra y marca la imagen correcta:

SOL



2. Completa la oración:

La \_\_\_\_\_ canta en el árbol.

casa

pájaro

mesa

3. Ordena las sílabas para formar una palabra:

TA - PE - LO

4. Escribe una oración sobre la primavera.

\_\_\_\_\_  
\_\_\_\_\_  
\_\_\_\_\_

5. Encierra la vocal con la que inicia la palabra abeja.

A - E - I - O - U



### 2. Matemáticas

1. Resuelve:

$8 + 4 = \underline{\quad}$

2. Resuelve:

$15 - 6 = \underline{\quad}$

3. Completa la secuencia:

$2 - 4 - 6 - \underline{\quad} - \underline{\quad}$

4. ¿Cuál número es mayor?

12

21

5. Observa y responde:



¿Cuántas estrellas hay?

\_\_\_\_\_



### 3. Ciencias Sociales

1. Escribe el nombre de tu país.

\_\_\_\_\_

2. ¿Quiénes forman tu familia?

\_\_\_\_\_

3. Marca la norma que ayuda a convivir mejor:

Empujar a los compañeros.


Saludar y respetar a los demás.

Gritar en clase.

4. Escribe el nombre de tu municipio o ciudad.

\_\_\_\_\_

5. Dibuja un lugar importante de tu comunidad.



### 4. Ciencias Naturales

1. Marca el ser vivo:



Piedra

Mariposa

Pelota


2. ¿Qué necesitan las plantas para crecer?

Agua y sol

Juguetes

Televisión

3. Une cada animal con su hábitat:



agua






árbol

4. Nombra una parte del cuerpo.

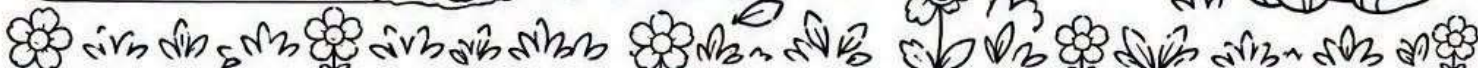
\_\_\_\_\_

5. Dibuja tu animal favorito.

\_\_\_\_\_



¡Felicitaciones por todo lo aprendido este año!



# Evaluación de fin de curso

## Grado Segundo

Nombre: \_\_\_\_\_

Fecha: \_\_\_\_\_

Comunidad de Práctica Retazos ♥

### 1. Español

1. Lee el texto y responde:

La mariposa Lola vive en el jardín.  
Tiene alas de muchos colores.  
Le gusta volar entre las flores  
y tomar el néctar.

- a) ¿Quién es Lola? \_\_\_\_\_  
b) ¿Dónde vive? \_\_\_\_\_  
c) ¿Qué le gusta hacer? \_\_\_\_\_

2. Escribe un sinónimo de:

feliz \_\_\_\_\_ casa \_\_\_\_\_

3. Escribe la forma correcta de las palabras:

- a) vuen \_\_\_\_\_  
b) árbol \_\_\_\_\_  
c) jardín \_\_\_\_\_

4. Ordena las palabras para formar una oración y escríbela.

juega - el - parque - niño - en - el

5. Escribe una oración sobre la primavera.

### 2. Matemáticas

1. Resuelve las operaciones:

- a)  $25 + 34 =$  \_\_\_\_\_  
b)  $47 - 22 =$  \_\_\_\_\_  
c)  $36 + 18 =$  \_\_\_\_\_  
d)  $63 - 29 =$  \_\_\_\_\_

2. Escribe el número que sigue.

- a) 198, 199, \_\_\_\_\_, \_\_\_\_\_  
b) 399, 400, \_\_\_\_\_, \_\_\_\_\_

3. Escribe el número que va antes.

- a) \_\_\_\_\_, 257  
b) \_\_\_\_\_, 600

4. Compara y escribe  $>$ ,  $<$  o  $=$ .

- a)  $345$  \_\_\_\_\_  $354$   
b)  $780$  \_\_\_\_\_  $708$   
c)  $505$  \_\_\_\_\_  $550$

5. Un jardín tiene 28 rosas rojas,  
17 rosas amarillas y 13 rosas blancas.  
¿Cuántas rosas tiene en total?

\_\_\_\_\_ + \_\_\_\_\_ + \_\_\_\_\_ = \_\_\_\_\_

Respuesta: \_\_\_\_\_

### 3. Ciencias Sociales

1. ¿En qué departamento vives?

\_\_\_\_\_

2. ¿Cuáles son los símbolos patrios de Colombia? Escríbelos.

- \_\_\_\_\_
- \_\_\_\_\_
- \_\_\_\_\_


3. Escribe dos actividades económicas que se realizan en tu comunidad.

- a) \_\_\_\_\_  
b) \_\_\_\_\_

4. ¿Qué es un recurso natural?


\_\_\_\_\_

5. Dibuja un paisaje de tu comunidad.



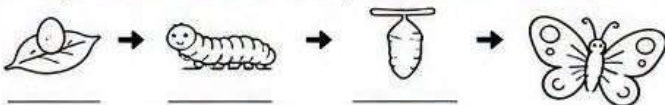
### 4. Ciencias Naturales

1. Clasifica los siguientes seres en vivos (V) o no vivos (NV).



2. ¿Qué necesitan las plantas para vivir y crecer?


3. Completa el ciclo de vida de la mariposa escribiendo los nombres.



4. Escribe dos hábitos que ayudan a cuidar tu cuerpo.

- a) \_\_\_\_\_  
b) \_\_\_\_\_

5. Dibuja tu planta favorita y escribe sus partes.



← \_\_\_\_\_  
← \_\_\_\_\_  
← \_\_\_\_\_  
← \_\_\_\_\_



### 5. Ética y Convivencia


1. ¿Qué es la convivencia?

\_\_\_\_\_

2. Marca con una X la opción correcta.

Para resolver un conflicto debo:

- Gritar y pelear.  
 Hablar y ponerse de acuerdo.  
 Ignorar a la otra persona.




3. Escribe dos valores que practicas en tu casa o en el colegio.

- a) \_\_\_\_\_ b) \_\_\_\_\_

4. ¿Qué harías si ves a un compañero triste?

\_\_\_\_\_

5. Dibuja una situación donde compartes y eres respetuoso con los demás.





# Evaluación de fin de curso

## Grado Tercero



Nombre: \_\_\_\_\_

Fecha: \_\_\_\_\_

Comunidad de Práctica Retazos ♥

### 1. Español

1. Lee el siguiente texto y responde.

La primavera llegó al campo. Las flores abren sus pétalos y los pájaros cantan alegres. Los niños juegan en el parque y disfrutan del sol. Es una época llena de vida y color.

- ¿Cuál es el tema del texto? \_\_\_\_\_
- ¿Qué hacen los pájaros? \_\_\_\_\_
- ¿Dónde juegan los niños? \_\_\_\_\_

2. Escribe un sinónimo para cada palabra.

- alegres \_\_\_\_\_
- hermoso \_\_\_\_\_
- pequeño \_\_\_\_\_

3. Ordena las palabras para formar una oración y escríbela.

jardín - mariposas - las - vuelan - en - el

4. Escribe dos oraciones sobre la primavera.

5. Escribe el antónimo de:

- alto \_\_\_\_\_
- día \_\_\_\_\_

### 2. Matemáticas

1. Resuelve las operaciones.

- $345 + 278 =$  \_\_\_\_\_
- $672 - 245 =$  \_\_\_\_\_
- $418 \times 3 =$  \_\_\_\_\_
- $846 \div 2 =$  \_\_\_\_\_

2. Escribe el número que falta.

- 3.496, 3.497, 3.498, \_\_\_\_\_, \_\_\_\_\_
- 7.810, 7.800, \_\_\_\_\_, 7.780, 7.770

3. Compara usando  $>$ ,  $<$  o  $=$ .

- $4.325$  \_\_\_\_\_  $4.352$
- $8.760$  \_\_\_\_\_  $8.670$
- $5.999$  \_\_\_\_\_  $5.999$

4. Resuelve el problema.

En un jardín hay 28 rosas rojas, 35 rosas amarillas y 17 rosas blancas. ¿Cuántas rosas hay en total?

Operación: \_\_\_\_\_

Respuesta: \_\_\_\_\_

5. Dibuja un ángulo recto y uno agudo.

Ángulo recto

Ángulo agudo

### 3. Ciencias Sociales

1. ¿Qué es el relieve?

\_\_\_\_\_  
\_\_\_\_\_

2. Escribe tres formas del relieve y dibújalas.

Montaña

Valle

Llanura



3. ¿Cuáles son los recursos naturales?

Escribe dos ejemplos.

- \_\_\_\_\_
- \_\_\_\_\_

4. ¿Qué es la población?

\_\_\_\_\_  
\_\_\_\_\_

5. Escribe dos actividades económicas que se realicen en tu región.

- \_\_\_\_\_
- \_\_\_\_\_

### 4. Ciencias Naturales

1. Clasifica los siguientes seres en vivos (V) o no vivos (NV).



2. Escribe tres necesidades que tienen los seres vivos para vivir.

- \_\_\_\_\_
- \_\_\_\_\_
- \_\_\_\_\_

3. Completa la cadena alimentaria.



4. Escribe dos funciones de las partes de la planta.



- Raíz: \_\_\_\_\_
- Tallo: \_\_\_\_\_
- Hojas: \_\_\_\_\_
- Flor: \_\_\_\_\_

5. Dibuja el ciclo de vida de una mariposa y escribe los nombres.



### 5. Ética y Valores

1. ¿Qué es el respeto? Escribe un ejemplo.

\_\_\_\_\_  
\_\_\_\_\_

2. Marca con una X la opción que muestra un buen valor.

- Compartir mis útiles con un compañero.
- Burlarme de los errores de otros.
- Decir la verdad aunque sea difícil.


3. Escribe dos valores que practicas en casa.

- \_\_\_\_\_
- \_\_\_\_\_

4. ¿Qué harías si ves que un compañero está solo en el recreo?


\_\_\_\_\_  
\_\_\_\_\_

5. Dibuja una situación donde demuestres solidaridad.



# Evaluación de fin de curso

## Grado Cuarto



Nombre: \_\_\_\_\_

Fecha: \_\_\_\_\_

Comunidad de Práctica Retazos ♥

### 1. Español

1. Lee el texto y responde.

La primavera es una estación del año que se caracteriza por el florecimiento de las plantas, el canto de los pájaros y el aumento de la temperatura. Es una época en la que la naturaleza despierta y los días se hacen más largos.

a) ¿Cuál es el tema del texto? \_\_\_\_\_

b) ¿Qué características tiene la primavera?  
\_\_\_\_\_

c) ¿Qué significa la palabra florecimiento?  
\_\_\_\_\_

2. Escribe un sinónimo para cada palabra.

a) bonito \_\_\_\_\_

b) feliz \_\_\_\_\_

c) rápido \_\_\_\_\_

3. Ordena las palabras para formar una oración y escríbela correctamente.

niños - el - juegan - parque - en - los

4. Escribe dos oraciones usando los signos de exclamación e interrogación.

a) \_\_\_\_\_

b) \_\_\_\_\_

5. Escribe el antónimo de las siguientes palabras.

a) grande \_\_\_\_\_ b) lleno \_\_\_\_\_

### 2. Matemáticas

1. Resuelve las operaciones.

a)  $4.563 + 2.789 =$  \_\_\_\_\_

b)  $7.236 - 3.458 =$  \_\_\_\_\_

c)  $6.845 \times 3 =$  \_\_\_\_\_

d)  $9.624 \div 4 =$  \_\_\_\_\_

2. Escribe el número que falta.

a) 7.890, 7.900, \_\_\_\_\_, 7.920, 7.930

b) 12.000, 11.900, \_\_\_\_\_, 11.700

3. Compara usando  $>$ ,  $<$  o  $=$ .

a) 5.432 \_\_\_\_\_ 5.324

b) 8.909 \_\_\_\_\_ 9.008

c) 6.700 \_\_\_\_\_ 6.070

4. Resuelve el problema.


En una granja hay 248 gallinas, 173 patos y 96 pavos.

¿Cuántas aves hay en total?

Operación: \_\_\_\_\_

Respuesta: \_\_\_\_\_

5. Calcula el perímetro de la siguiente figura.



Perímetro: \_\_\_\_\_

### 3. Ciencias Sociales

1. ¿Cuáles son las ramas del poder público en Colombia? Escríbelas y explica su función.

• \_\_\_\_\_:

\_\_\_\_\_

• \_\_\_\_\_:

\_\_\_\_\_

• \_\_\_\_\_:

\_\_\_\_\_

2. ¿Qué es la democracia? Escribe con tus palabras.

\_\_\_\_\_

3. Escribe tres derechos y tres deberes que tienes como ciudadano.

Derechos

Deberes

• \_\_\_\_\_

• \_\_\_\_\_

• \_\_\_\_\_

• \_\_\_\_\_

• \_\_\_\_\_

• \_\_\_\_\_

4. Escribe el nombre de los departamentos que limitan con el departamento donde vives.

\_\_\_\_\_

5. Dibuja un símbolo patrio de Colombia y escribe su significado.

Significado: \_\_\_\_\_

\_\_\_\_\_

\_\_\_\_\_

### 4. Ciencias Naturales

1. Clasifica los siguientes seres en vivos (V) o no vivos (NV).



2. Explica la función de los siguientes aparatos del cuerpo humano.

a) Corazón: \_\_\_\_\_

b) Pulmones: \_\_\_\_\_

c) Estómago: \_\_\_\_\_

3. Completa la cadena alimentaria.



4. ¿Qué tipos de mezcla son? Escribe homogénea o heterogénea.



a) \_\_\_\_\_

b) \_\_\_\_\_

c) \_\_\_\_\_

5. Escribe tres acciones que contribuyen al cuidado del ambiente.

• \_\_\_\_\_

• \_\_\_\_\_

• \_\_\_\_\_

### 5. Ética y Valores

1. ¿Qué es la responsabilidad? Escribe un ejemplo de tu vida diaria.

\_\_\_\_\_

2. Marca con una X la opción correcta.

Un conflicto se puede resolver de mejor manera si:

a)  se grita y se empuja.

b)  se dialoga y se escucha al otro.

c)  se ignora el problema.

3. Escribe dos valores que practicas en tu familia y cómo los demuestras.

a) Valor: \_\_\_\_\_ Lo demuestro cuando \_\_\_\_\_

b) Valor: \_\_\_\_\_ Lo demuestro cuando \_\_\_\_\_

4. ¿Qué harías si ves que un compañero es excluido por otros?

\_\_\_\_\_

5. Dibuja una situación en la que practiques la solidaridad.



# Evaluación de fin de curso

## Grado Quinto

Nombre: \_\_\_\_\_

Fecha: \_\_\_\_\_

Comunidad de Práctica Retazos ♥

### 1. Español

1. Lee el texto y responde:

La biodiversidad es la variedad de seres vivos que habitan en un lugar. Gracias a ella, los ecosistemas mantienen su equilibrio y funcionamiento.

¿Qué es la biodiversidad?

2. ¿Cuál es la idea principal del texto?

3. Escribe un sinónimo de:

Importante: \_\_\_\_\_

4. Identifica el sujeto y el predicado de la oración:

"Los estudiantes prepararon la feria científica."

Sujeto: \_\_\_\_\_

Predicado: \_\_\_\_\_

5. Escribe un párrafo de cuatro líneas explicando qué aprendiste durante este año escolar.

### 2. Matemáticas

1. Resuelve:

$$4.582 + 3.769 = \underline{\hspace{2cm}}$$

2. Resuelve:

$$8.405 - 2.987 = \underline{\hspace{2cm}}$$

3. Resuelve:

$$325 \times 24 = \underline{\hspace{2cm}}$$

4. Resuelve:

$$4.896 \div 6 = \underline{\hspace{2cm}}$$

5. Problema:

En una biblioteca hay 245 libros de cuentos, 378 de ciencias y 196 de historia. ¿Cuántos libros hay en total?

Operación:

Respuesta:

### 3. Ciencias Sociales

1. ¿Cuáles son las tres ramas del poder público en Colombia?

a) \_\_\_\_\_

b) \_\_\_\_\_

c) \_\_\_\_\_

2. Explica con tus palabras qué es la democracia.

\_\_\_\_\_

\_\_\_\_\_

\_\_\_\_\_

3. Escribe tres derechos de los niños.

• \_\_\_\_\_

• \_\_\_\_\_

• \_\_\_\_\_

4. ¿Qué es un ciudadano responsable?

\_\_\_\_\_

\_\_\_\_\_

5. Escribe dos acciones que ayudan a cuidar tu comunidad.

a) \_\_\_\_\_

b) \_\_\_\_\_

### 4. Ciencias Naturales

1. ¿Cuál es la función principal de la fotosíntesis?

\_\_\_\_\_

2. Escribe tres características de los seres vivos.

a) \_\_\_\_\_


b) \_\_\_\_\_

c) \_\_\_\_\_

3. ¿Qué función cumple el sistema circulatorio?

\_\_\_\_\_

4. Completa la cadena alimentaria:



5. Menciona dos acciones para proteger el medio ambiente.

a) \_\_\_\_\_

b) \_\_\_\_\_

### 5. Ética y Valores

1. ¿Qué significa actuar con responsabilidad?

\_\_\_\_\_


2. Marca la opción correcta:

Cuando tengo un conflicto con alguien debo:

Ignorarlo.

Dialogar y buscar una solución.

Responder con agresividad.



3. Escribe dos valores que practiques en casa.

a) \_\_\_\_\_

b) \_\_\_\_\_

4. ¿Qué harías para ayudar a un compañero que tiene dificultades para aprender?

\_\_\_\_\_

\_\_\_\_\_

5. Escribe una meta que te gustaría alcanzar el próximo año escolar.

\_\_\_\_\_

¡Felicitaciones por tu esfuerzo y dedicación durante este año escolar! ♥

♥ Comunidad de Práctica Retazos ♥