



ESCAPE ROOM MATEMÁTICO DE VERANO



Actividades
de
Infantil y Primaria



RETO 1



Identifica qué número falta.

$$\bigcirc + 6 = 12$$

$$13 - \bigcirc = 5$$

$$7 \times \bigcirc = 28$$

$$\bigcirc \div 3 = 3$$

$$8 + \bigcirc = 15$$

$$\bigcirc - 4 = 12$$

$$\bigcirc \times 8 = 64$$

$$27 \div \bigcirc = 3$$

RETO 2

Busca en la sopa de números, los resultados de las siguientes tablas de multiplicar,
Pueden estar en horizontal o en vertical:

4	3	1	5	9	6	0	6	1	0
1	3	6	6	8	4	1	4	5	8
8	2	4	1	0	3	4	3	2	4
0	8	2	1	4	6	2	2	8	1
9	5	4	9	0	3	7	1	1	2
2	7	2	0	5	1	6	5	8	6
3	5	3	6	2	5	4	9	1	9
1	2	4	8	9	1	8	6	7	2
6	0	1	7	4	0	3	7	2	5
5	2	8	4	9	1	0	3	4	8

$2 \times 4 =$	
----------------	--


$2 \times 6 =$	
----------------	--

$8 \times 3 =$	
----------------	--

$9 \times 5 =$	
----------------	--

$5 \times 5 =$	
----------------	--



$8 \times 9 =$	
----------------	--







RETO 3

Resuelve:

 $+$  $=$ 16

 $-$  $=$ 5

 $+$  $=$ 7

 $-$  $=$

RETO 4

Resuelve los siguientes problemas:

1. Al campamento de verano se han apuntado 125 niñas y 137 niños.
¿Cuántos niños van en total?

Datos

Operación



2. Luis va a preparar con su mamá polos de frutas para las próximas tres semanas. Si quiere comerse dos polos al día, ¿cuántos polos deberá preparar?

Datos

Operación



3. Papá ha comprado en la farmacia un protector solar para la cara que cuesta 18€ y un protector solar para el cuerpo que cuesta 23€. Si ha pagado con un billete de 50€, ¿cuánto le han devuelto?


Datos

Operación



RETO 5

Resuelve como en el ejemplo:



RETO 6

Lee y colorea:

- Colorea de azul el helado que tiene un 6 en las decenas.



- Colorea de amarillo el helado que tiene un 5 en las centenas.



- Colorea de rojo el helado que tiene un 3 en las unidades.



- Colorea de verde el helado que tiene un 7 en las decenas.



- Colorea de morado el helado que tiene un 4 en las unidades.



INTRODUCE EL CÓDIGO



RETO 1 → El número que falta en la última división.

RETO 2 → El resultado de la primera multiplicación.

RETO 3 → El valor del helado de limón.

RETO 4 → La última cifra del resultado del problema número dos.

RETO 5 → La cifra de la bola amarilla del último helado.

RETO 6 → El número de decenas del helado amarillo.

Créditos y normas de uso



Actividades
de
Infantil y Primaria



Agradezco la confianza e interés en estas actividades que fueron creadas con mucho cariño y dedicación. Espero sinceramente que estos materiales les ayuden y que impacten en el aprendizaje de los alumnos y alumnas jugando, creando e innovando.

Todos los derechos reservados por [Actividades de Infantil y Primaria](#). Queda prohibido distribuir, reproducir o vender este material por cualquier medio ya sea electrónicamente o de manera impresa, así como reclamarlo como propio e intentar modificar o quitar avisos de copyright, logos o marcas de agua ya que se encuentra protegido por los derechos de autor. El incumplimiento es una violación a la Ley de los Derechos de Autor y tendrá consecuencias legales.

©opyright

Autora: María Olivares

SÍGUENOS →



[@adeiyp](#)



[Actividades de Infantil y Primaria](#)

Suscríbete en <https://www.actividadesdeinfantilyprimaria.com/>

Créditos

