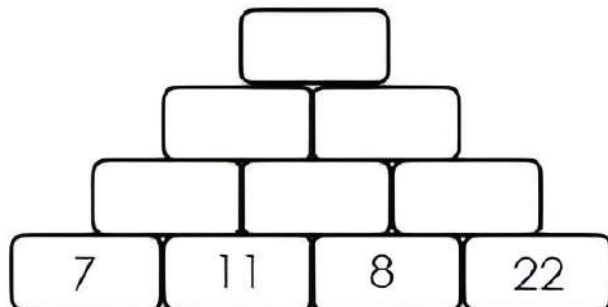
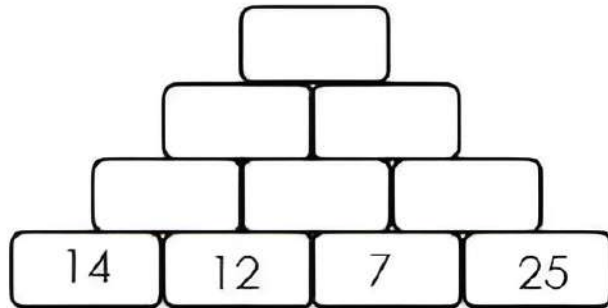
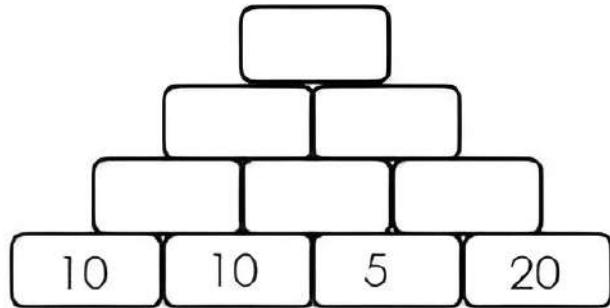


Pirámides matemáticas

- **Instrucciones:** Resuelve las siguientes pirámides matemáticas. Comienza de abajo hacia arriba, recuerda que la suma de cada par de casillas en la base es el resultado de la casilla superior correspondiente. Repite hasta llegar a la cima.



Puzzles de multiplicación

• **Instrucciones:** Rellena las casillas de tal manera que al multiplicarlos de forma horizontal de el resultado que se indican de lado derecho y al multiplicarse de forma vertical de como resultado el número que se encuentra en la parte inferior.

Ejemplo:

5	6	30
3	8	24
15	48	

		6
		49
14	21	

		7
		6
42	1	

		12
		30
18	20	


		27
		32
36	24	

		56
		9
7	72	

		24
		36
16	54	

		64
		2
18	8	

		40
		64
40	64	



Cuadros mágicos

• **Instrucciones:** Rellena los espacios vacíos con los números que tu consideres correctos, de tal manera que la suma de cada fila, columna y diagonal sea **el número mágico**. Comprueba y ajusta las veces que sea necesario hasta que todas las sumas coincidan.

12	2	
4		8


Número mágico:

30

2		4
6	1	

Número mágico:

15



Pirámides matemáticas

• **Instrucciones:** Resuelve las siguientes pirámides matemáticas. Comienza de abajo hacia arriba, recuerda que la suma de cada par de casillas en la base es el resultado de la casilla superior correspondiente. Repite hasta llegar a la cima.

