



# MI LLAVERO DE RETOS MATEMÁTICOS



¿Qué número falta en la serie?



Completa con los números que faltan.

5		7	= 12
	4		= 12
1	8		= 12

||                    ||                    ||  
↘                    ↘                    ↘

¿Qué número es?

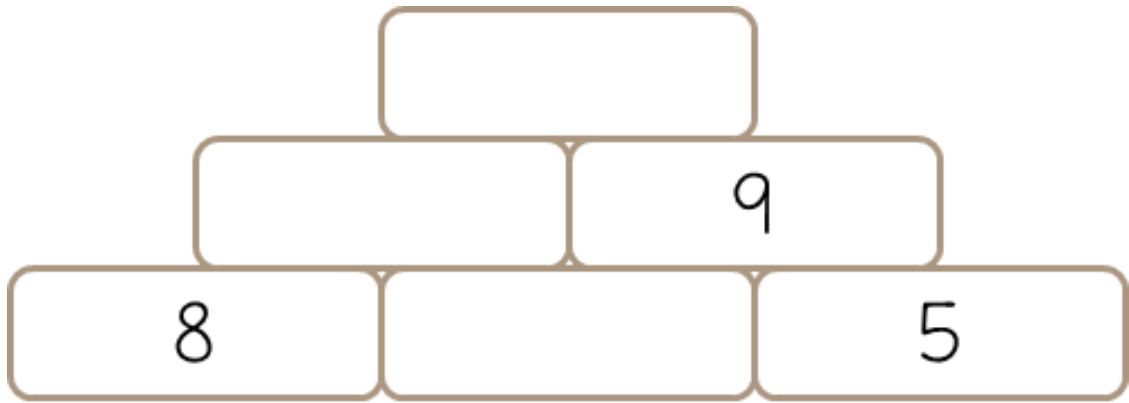
- La centena es 8
- La decena es 6
- La unidad es 3

683


836

863

Resuelve:



¿Cuántos pétalos tienen 6 flores?



¿De qué número se trata?


- Soy el doble de 10

- Soy la mitad de 100

- Soy el triple de 8

Dibuja en el reloj.

Luis se levanta todos los días a las ocho menos cuarto.



¿Qué número es?

- Es impar.
- Es mayor que 100.
- No tiene un 7.

53

274

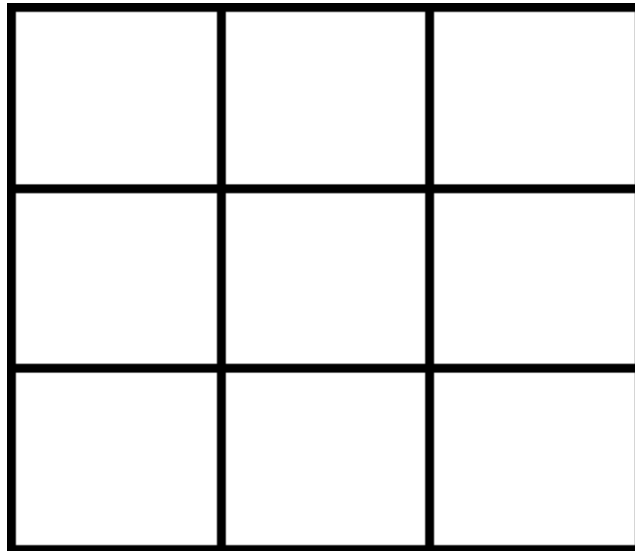
189

Piensa y resuelve

La mochila azul contiene 10 libras, la mochila verde tiene 4 libras menos que la azul, y la mochila roja tiene exactamente la mitad de libras que la mochila verde; ¿podrías decir cuántos libras hay en total si juntamos las tres mochilas?



¿Cuántos cuadrados hay en total?

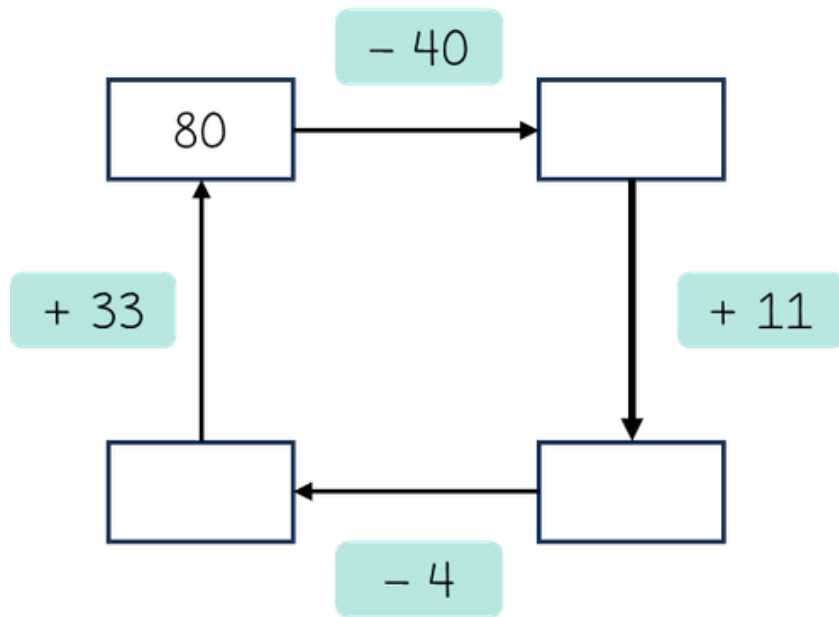


Piensa y resuelve

Cuando María tenía 6 años, su hermana pequeña tenía la mitad de su edad. Ahora María tiene 40 años.

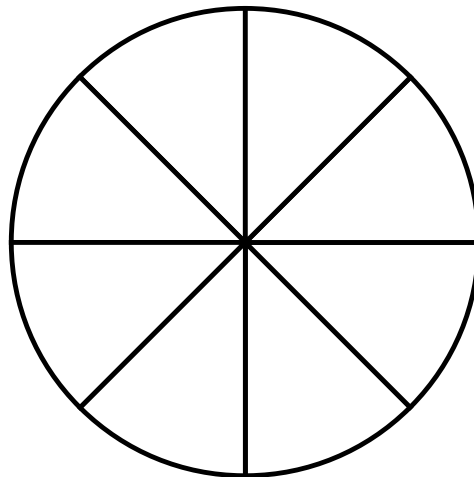
¿Cuántos años tiene su hermana?

Resuelve:



Colorea:

Lola se ha comido tres octavos del pastel.



¿Qué signos se han perdido?




$$5 \bigcirc 9 = 14$$

$$4 \bigcirc 3 = 12$$

$$18 \bigcirc 3 = 6$$

Colorea:

- De rojo el objeto circular.
- De verde el objeto rectangular.
- De azul el objeto cuadrado.



# Créditos y normas de uso



Actividades  
de  
Infantil y Primaria



Agradezco la confianza e interés en estas actividades que fueron creadas con mucho cariño y dedicación. Espero sinceramente que estos materiales les ayuden y que impacten en el aprendizaje de los alumnos y alumnas jugando, creando e innovando.

Todos los derechos reservados por [Actividades de Infantil y Primaria](#). Queda prohibido distribuir, reproducir o vender este material por cualquier medio ya sea electrónicamente o de manera impresa, así como reclamarlo como propio e intentar modificar o quitar avisos de copyright, logos o marcas de agua ya que se encuentra protegido por los derechos de autor. El incumplimiento es una violación a la Ley de los Derechos de Autor y tendrá consecuencias legales.

©opyright

**Autora:** María Olivares

SÍGUENOS



[@adeiyp](#)



[Actividades de Infantil y Primaria](#)

Susíbete en <https://www.actividadesdeinfantilyprimaria.com/>

Créditos

