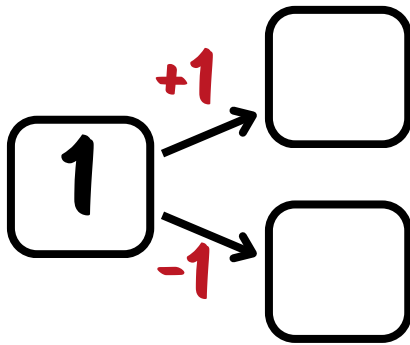
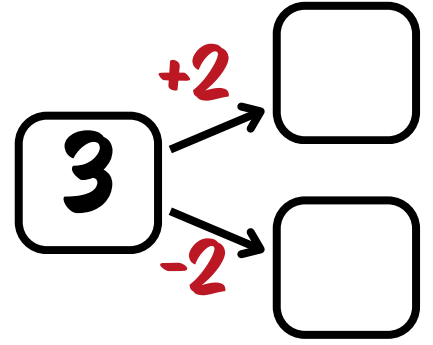
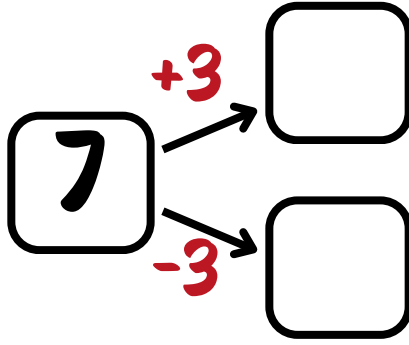
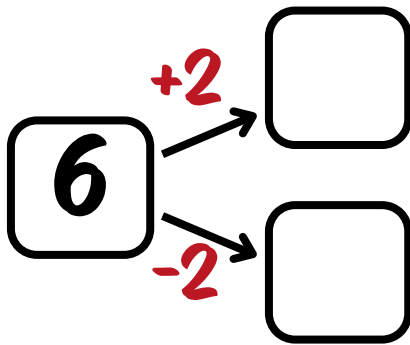
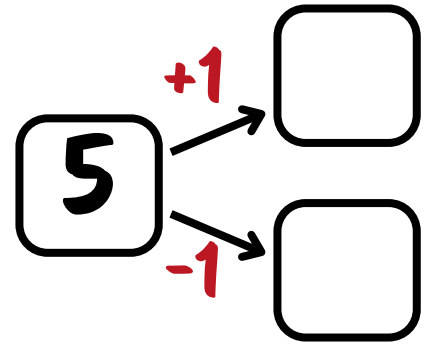
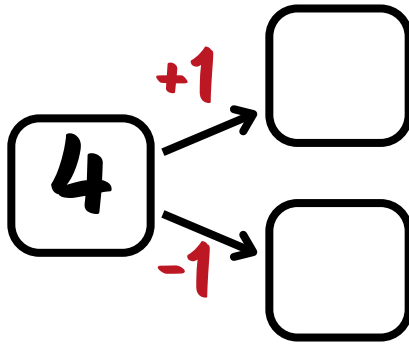
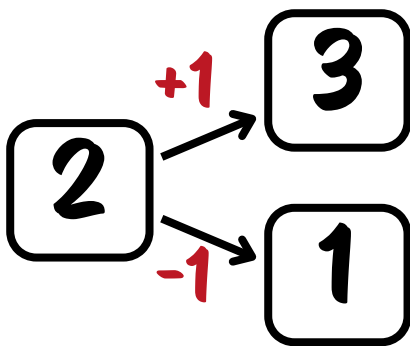


Nombre: _____

sumas y restas

Haz las sumas y restas de cada número y escribe los resultados en los recuadros.



Nombre: _____

sumas y restas

Haz las sumas y restas de cada número y escribe los resultados en los recuadros.

$$\begin{array}{l} \boxed{5} \xrightarrow{+1} \boxed{} \\ \quad \searrow \xrightarrow{-1} \boxed{} \end{array}$$

$$\begin{array}{l} \boxed{2} \xrightarrow{+1} \boxed{} \\ \quad \searrow \xrightarrow{-1} \boxed{} \end{array}$$

$$\begin{array}{l} \boxed{8} \xrightarrow{+1} \boxed{} \\ \quad \searrow \xrightarrow{-1} \boxed{} \end{array}$$

$$\begin{array}{l} \boxed{9} \xrightarrow{+2} \boxed{} \\ \quad \searrow \xrightarrow{-2} \boxed{} \end{array}$$

$$\begin{array}{l} \boxed{4} \xrightarrow{+3} \boxed{} \\ \quad \searrow \xrightarrow{-3} \boxed{} \end{array}$$

$$\begin{array}{l} \boxed{7} \xrightarrow{+2} \boxed{} \\ \quad \searrow \xrightarrow{-2} \boxed{} \end{array}$$

$$\begin{array}{l} \boxed{3} \xrightarrow{+1} \boxed{} \\ \quad \searrow \xrightarrow{-1} \boxed{} \end{array}$$



Nombre: _____

sumas y restas

Haz las sumas y restas de cada número y escribe los resultados en los recuadros.

$$\begin{array}{l} \boxed{6} \xrightarrow{+3} \boxed{} \\ \boxed{6} \xrightarrow{-3} \boxed{} \end{array}$$

$$\begin{array}{l} \boxed{9} \xrightarrow{+5} \boxed{} \\ \boxed{9} \xrightarrow{-5} \boxed{} \end{array}$$

$$\begin{array}{l} \boxed{7} \xrightarrow{+2} \boxed{} \\ \boxed{7} \xrightarrow{-2} \boxed{} \end{array}$$

$$\begin{array}{l} \boxed{5} \xrightarrow{+2} \boxed{} \\ \boxed{5} \xrightarrow{-2} \boxed{} \end{array}$$

$$\begin{array}{l} \boxed{4} \xrightarrow{+4} \boxed{} \\ \boxed{4} \xrightarrow{-4} \boxed{} \end{array}$$

$$\begin{array}{l} \boxed{8} \xrightarrow{+2} \boxed{} \\ \boxed{8} \xrightarrow{-2} \boxed{} \end{array}$$

$$\begin{array}{l} \boxed{6} \xrightarrow{+5} \boxed{} \\ \boxed{6} \xrightarrow{-5} \boxed{} \end{array}$$



Nombre: _____

sumas y restas

Haz las sumas y restas de cada número y escribe los resultados en los recuadros.

$$\begin{array}{l} \boxed{8} \xrightarrow{+4} \boxed{} \\ \quad \searrow \xrightarrow{-4} \boxed{} \end{array}$$

$$\begin{array}{l} \boxed{7} \xrightarrow{+5} \boxed{} \\ \quad \searrow \xrightarrow{-5} \boxed{} \end{array}$$

$$\begin{array}{l} \boxed{6} \xrightarrow{+3} \boxed{} \\ \quad \searrow \xrightarrow{-3} \boxed{} \end{array}$$

$$\begin{array}{l} \boxed{8} \xrightarrow{+6} \boxed{} \\ \quad \searrow \xrightarrow{-6} \boxed{} \end{array}$$

$$\begin{array}{l} \boxed{5} \xrightarrow{+4} \boxed{} \\ \quad \searrow \xrightarrow{-4} \boxed{} \end{array}$$

$$\begin{array}{l} \boxed{9} \xrightarrow{+7} \boxed{} \\ \quad \searrow \xrightarrow{-7} \boxed{} \end{array}$$

$$\begin{array}{l} \boxed{6} \xrightarrow{+4} \boxed{} \\ \quad \searrow \xrightarrow{-4} \boxed{} \end{array}$$

