
























Resuelve los siguientes problemas con ayuda de pistas visuales:

1. Lucía ha preparado un ramo de flores para regalar a su mamá. El ramo tiene cuatro margaritas, dos rosas y cinco claveles azules. ¿Cuántas flores tiene el ramo en total?



















										
										
										

2. Jaime tiene seis años, y su hermana mayor, tres años más que él. ¿Cuántos años tiene la hermana de Jaime?


















										
										

Resuelve los siguientes problemas con ayuda de pistas visuales:

1. La abuela ha preparado ocho magdalenas. El abuelo se ha comido dos y su nieto se ha comido cinco. ¿Cuántas magdalenas quedan?




















										
										
										

2. En un manzano había diez manzanas, pero con el fuerte viento se ha caído cinco manzanas. ¿Cuántas manzanas quedan en el manzano?
















										
										

Resuelve los siguientes problemas con ayuda de pistas visuales:

1. En un autobús que viajan siete personas; en la siguiente parada, se bajan tres y suben seis. ¿Cuántas personas viajan en el autobús tras la parada?

2. Carmen tiene 9 caramelos y su mejor amigo, Pablo, tiene cuatro. ¿Cuántos caramelos tiene que comer Carmen para tener los mimos que Pablo?

# Créditos y normas de uso



Actividades  
de  
Infantil y Primaria



Agradezco la confianza e interés en estas actividades que fueron creadas con mucho cariño y dedicación. Espero sinceramente que estos materiales les ayuden y que impacten en el aprendizaje de los alumnos y alumnas jugando, creando e innovando.

Todos los derechos reservados por [Actividades de Infantil y Primaria](#). Queda prohibido distribuir, reproducir o vender este material por cualquier medio ya sea electrónicamente o de manera impresa, así como reclamarlo como propio e intentar modificar o quitar avisos de copyright, logos o marcas de agua ya que se encuentra protegido por los derechos de autor. El incumplimiento es una violación a la Ley de los Derechos de Autor y tendrá consecuencias legales.

©opyright

SÍGUENOS



@adeiyp



Actividades de Infantil y  
Primaria

Suscríbete en <https://www.actividadesdeinfantilyprimaria.com/>

Créditos

