

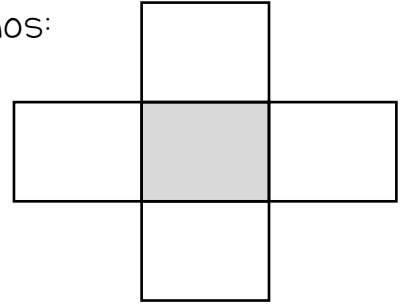
El número es:

• Se escribe: _____

Par

Impar

• Sus vecinos:



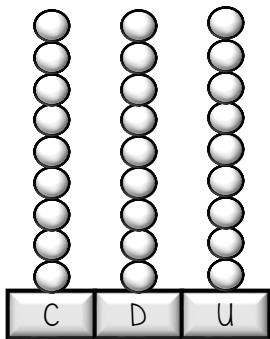
• Un número mayor:



• Un número menor:



• Representa en el ábaco:



• Descompón:

C	D	U

• Una suma cuyo resultado sea ese número:



$$\begin{array}{r}
 \boxed{} \\
 + \boxed{} \\
 \hline
 \boxed{}
 \end{array}$$

• Una resta cuyo resultado sea ese número:



$$\begin{array}{r}
 \boxed{} \\
 - \boxed{} \\
 \hline
 \boxed{}
 \end{array}$$

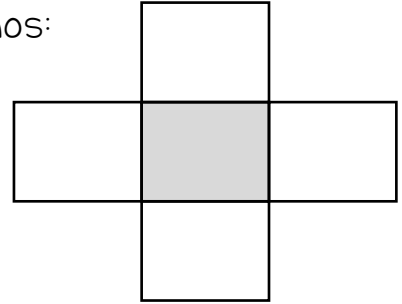
El número es:

• Se escribe: _____

Par

Impar

• Sus vecinos:



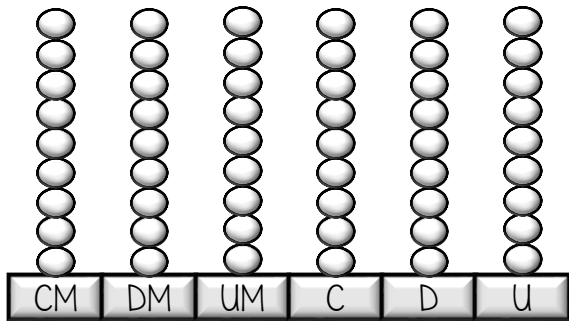
• Un número mayor:



• Un número menor:



• Representa en el ábaco:



• Descompón:

CM	DM	UM	C	D	U

• Una suma cuyo resultado sea ese número:



$$\begin{array}{r}
 \boxed{} \\
 + \boxed{} \\
 \hline
 \boxed{}
 \end{array}$$

• Una resta cuyo resultado sea ese número:



$$\begin{array}{r}
 \boxed{} \\
 - \boxed{} \\
 \hline
 \boxed{}
 \end{array}$$