


CÁLCULO MENTAL



LAS MANZANAS DE BLANCANIEVES



Averigua cuántas manzanas le faltan a Blancanieves y dibújalas:

- ¿Cuántas manzanas le faltan a Blancanieves para tener 4 manzanas?


- Si tiene 1 manzana, le faltan 

- Si tiene 2 manzanas, le faltan  

- ¿Cuántas manzanas le faltan a Blancanieves para tener 5 manzanas?


- Si tiene 3 manzanas, le faltan   

- Si tiene 4 manzanas, le faltan    




Averigua cuántas manzanas le faltan a Blancanieves y dibújalas:

- ¿Cuántas manzanas le faltan a Blancanieves para tener 6 manzanas?

- Si tiene 3 manzanas, le faltan 

- Si tiene 4 manzanas, le faltan 

- ¿Cuántas manzanas le faltan a Blancanieves para tener 8 manzanas?


- Si tiene 2 manzanas, le faltan 

- Si tiene 5 manzanas, le faltan 



Averigua cuántas manzanas le faltan a Blancanieves y dibújalas:

- ¿Cuántas manzanas le faltan al pirata para tener 7 manzanas?

- Si tiene 2 manzanas, le faltan 

- Si tiene 4 manzanas, le faltan 

- ¿Cuántas manzanas le faltan al pirata para tener 10 manzanas?


- Si tiene 5 manzanas, le faltan 

- Si tiene 7 manzanas, le faltan 



Averigua cuántas manzanas le faltan a Blancanieves y dibújalas:

- ¿Cuántas manzanas le faltan al pirata para tener 9 manzanas?

- Si tiene 3 manzanas, le faltan 

- Si tiene 5 manzanas, le faltan 

- ¿Cuántas manzanas le faltan al pirata para tener 12 manzanas?

- Si tiene 6 manzanas, le faltan 

- Si tiene 8 manzanas, le faltan 

