






JULIO

LUNES	MARTES	MIÉRCOLES	JUEVES	VIERNES	SÁBADO	DOMINGO
		1 ¿Cuál de estos es un número par? 7 – 12 – 21	2 ¿Qué número es 4 D y 6 U?	3 Sigue la serie: 3 – 6 – 9 – 12 ...	4 La mitad de 40 es ...	5 ¿Qué número falta? $6 \times \underline{\quad} = 42$
6 ¿Qué número es mayor? $53 \bigcirc 79$	7 El número posterior a 29 es...	8 Escribe el doble de 8	9 Cuenta de 2 en 2 hasta el 20	10 Escribe en letra el número 357	11 La decena más próxima a 64 es...	12 ¿ $>$ = $<$? $74 \bigcirc 47$
13 Inventa un problema de restar cuyo resultado sea 7	14 ¿ Qué hora es? 	15 Descompón en centenas, decenas y unidades: 892	16 ¿Cómo se llama esta figura? 	17 Si pagas 30 € con un billete de 50€, te devuelven...	18 Multiplica por 10 los siguientes números: 32 – 47 – 55 – 68	19 Escribe en cifras el número: Doscientos sesenta y uno
20 ¿Qué número falta? $25 \div \underline{\quad} = 5$	21 Sigue la serie: 	22 Escribe los números que hay entre: 67 y 74	23 Ordena de mayor a menor: 17 – 95 – 33 – 61	24 El número anterior a 112 es...	25 Añade 3 D y 5 U a 44	26 El triple de 11 es...
27 ¿Cuánto dinero hay? 	28 Sigue la serie: 94 – 93 – 92 – 91...	29 Di los números ordinales del 1 al 20	30 Escribe una operación cuyo resultado sea 24	31 Representa en ábaco el número 548		