

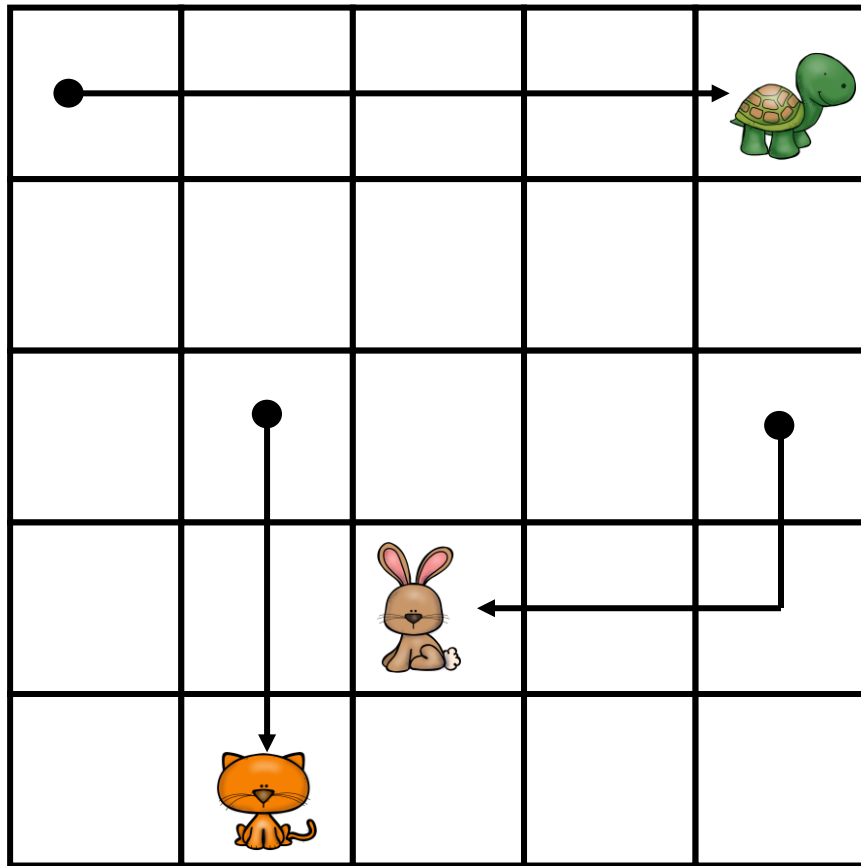


# ORIENTACIÓN ESPACIAL EN CUADRÍCULA





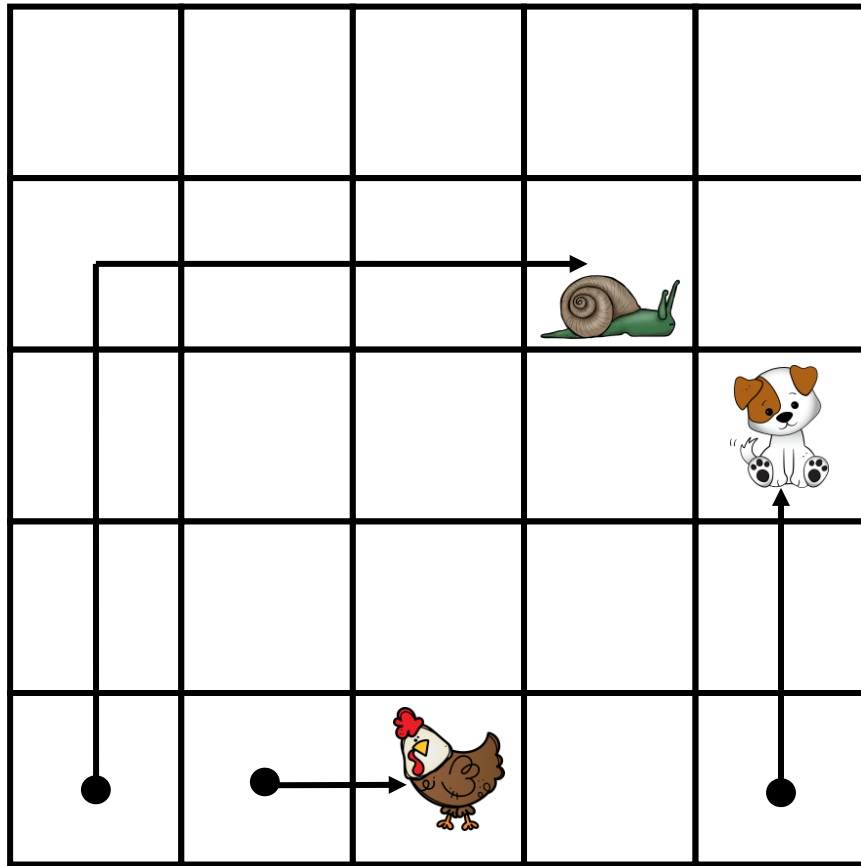
Observa la cuadrícula y luego completa las frases de abajo:



- El gato caminó \_\_\_\_\_ cuadros hacia \_\_\_\_\_ .
- La tortuga caminó \_\_\_\_\_ cuadros hacia a la \_\_\_\_\_.
- El conejo caminó \_\_\_\_\_ cuadros hacia \_\_\_\_\_ y \_\_\_\_\_ hacia a la \_\_\_\_\_.



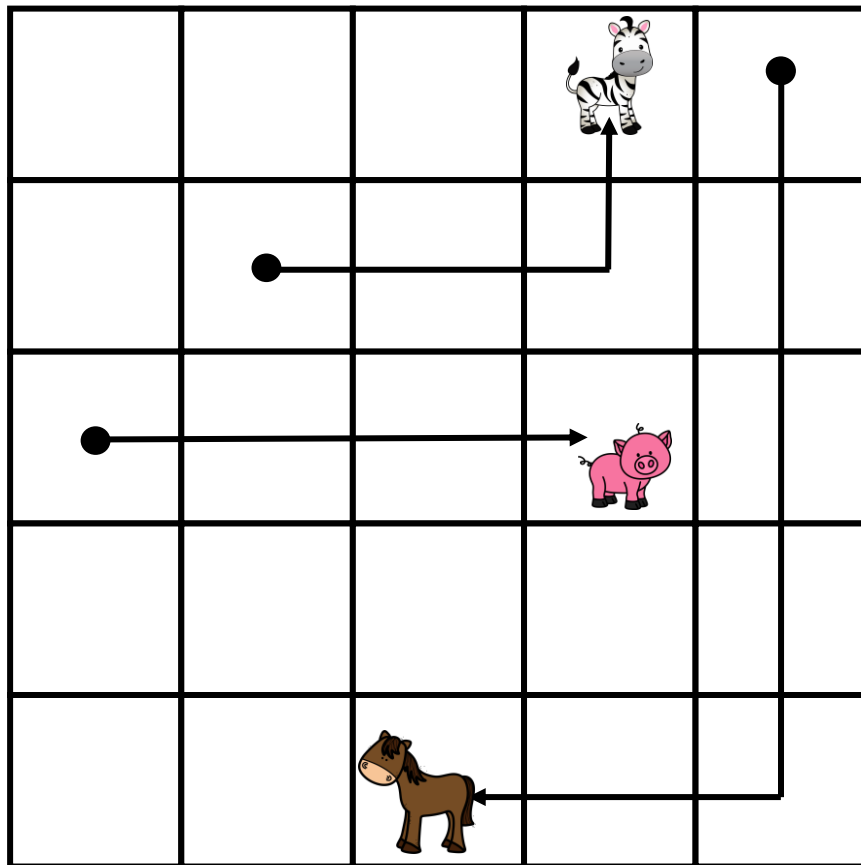
Observa la cuadrícula y luego completa las frases de abajo:



- El perro caminó \_\_\_\_\_ cuadros hacia \_\_\_\_\_ .
- La gallina caminó \_\_\_\_\_ cuadros hacia a la \_\_\_\_\_ .
- El caracol caminó \_\_\_\_\_ cuadros hacia \_\_\_\_\_ y \_\_\_\_\_ hacia a la \_\_\_\_\_ .




Observa la cuadrícula y luego completa las frases de abajo:



- La cebra caminó \_\_\_\_\_ cuadros hacia a la \_\_\_\_\_ y \_\_\_\_\_ hacia \_\_\_\_\_.
- El cerdo caminó \_\_\_\_\_ cuadros hacia a la \_\_\_\_\_.
- El caballo caminó \_\_\_\_\_ cuadros hacia \_\_\_\_\_ y \_\_\_\_\_ hacia a la \_\_\_\_\_.



Observa la cuadrícula y luego completa las frases de abajo:



- El león caminó \_\_\_\_\_ cuadros hacia \_\_\_\_\_.
- La jirafa caminó \_\_\_\_\_ cuadros hacia a la \_\_\_\_\_.
- La vaca caminó \_\_\_\_\_ cuadros hacia a la \_\_\_\_\_ y \_\_\_\_\_ hacia \_\_\_\_\_.