



Actividades representación de la información



Actividades
de
Infantil y Primaria

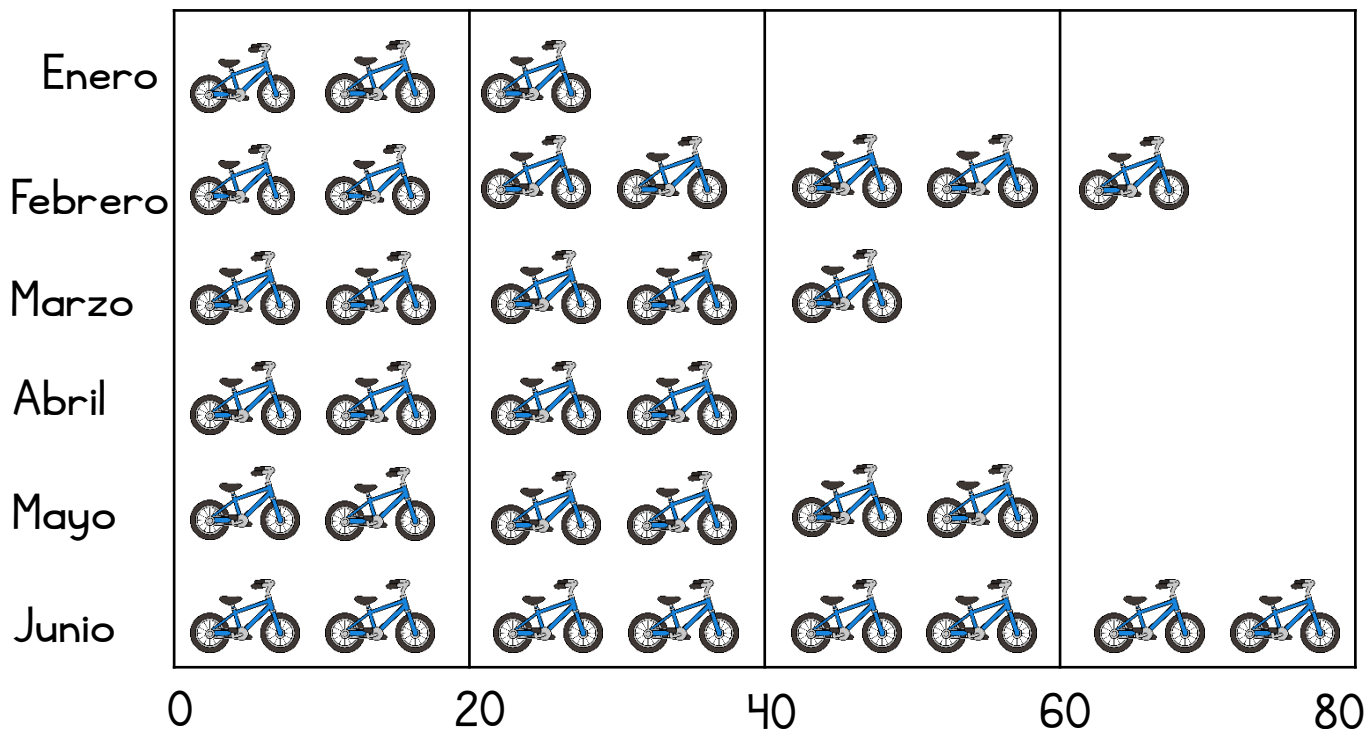
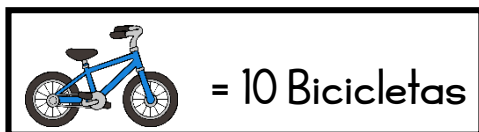


Nombre: _____ Fecha: _____



Obtén datos de un pictograma.

Actividades
de
Infantil y Primaria



¿Cuántas bicicletas se han vendido cada mes?

enero

febrero

marzo

abril

mayo

junio



¿Cuántas bicicletas se han vendido en total entre abril y mayo?

Se han vendido _____ bicicletas

<input type="text"/>	<input type="text"/>
<input type="text"/>	<input type="text"/>
<input type="text"/>	<input type="text"/>



¿Cuántas bicicletas se han vendido más en junio que en enero?

Se han vendido _____ bicicletas más

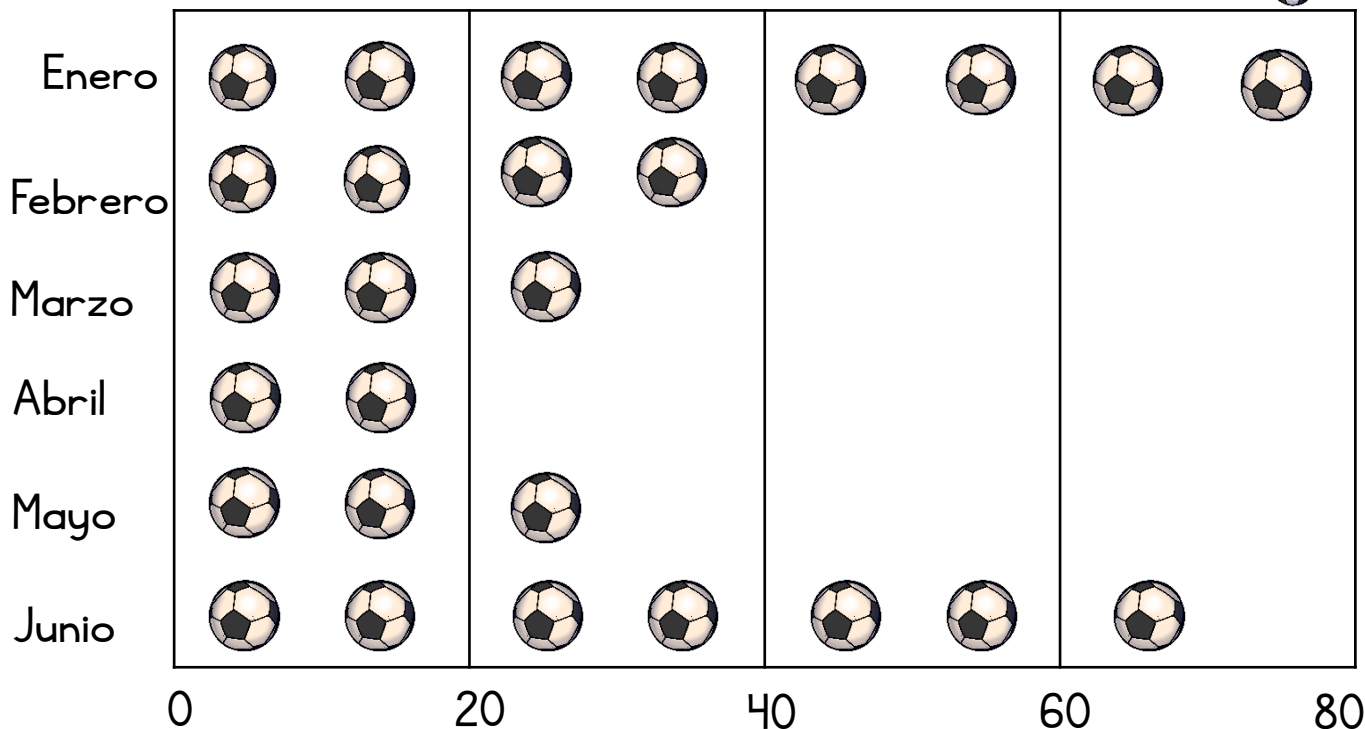
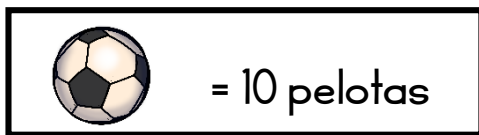
<input type="text"/>	<input type="text"/>
<input type="text"/>	<input type="text"/>
<input type="text"/>	<input type="text"/>

Nombre: _____ Fecha: _____



Obtén datos de un pictograma.

Actividades
de
Infantil y Primaria



¿Cuántas pelotas se han vendido cada mes?

enero

febrero

marzo

abril

mayo

junio



¿Cuántas pelotas se han vendido en total entre enero y junio?

Se han vendido _____ pelotas

□	□
□	□
□	□



¿Cuántas pelotas se han vendido más en febrero que en abril?

Se han vendido _____ pelotas más

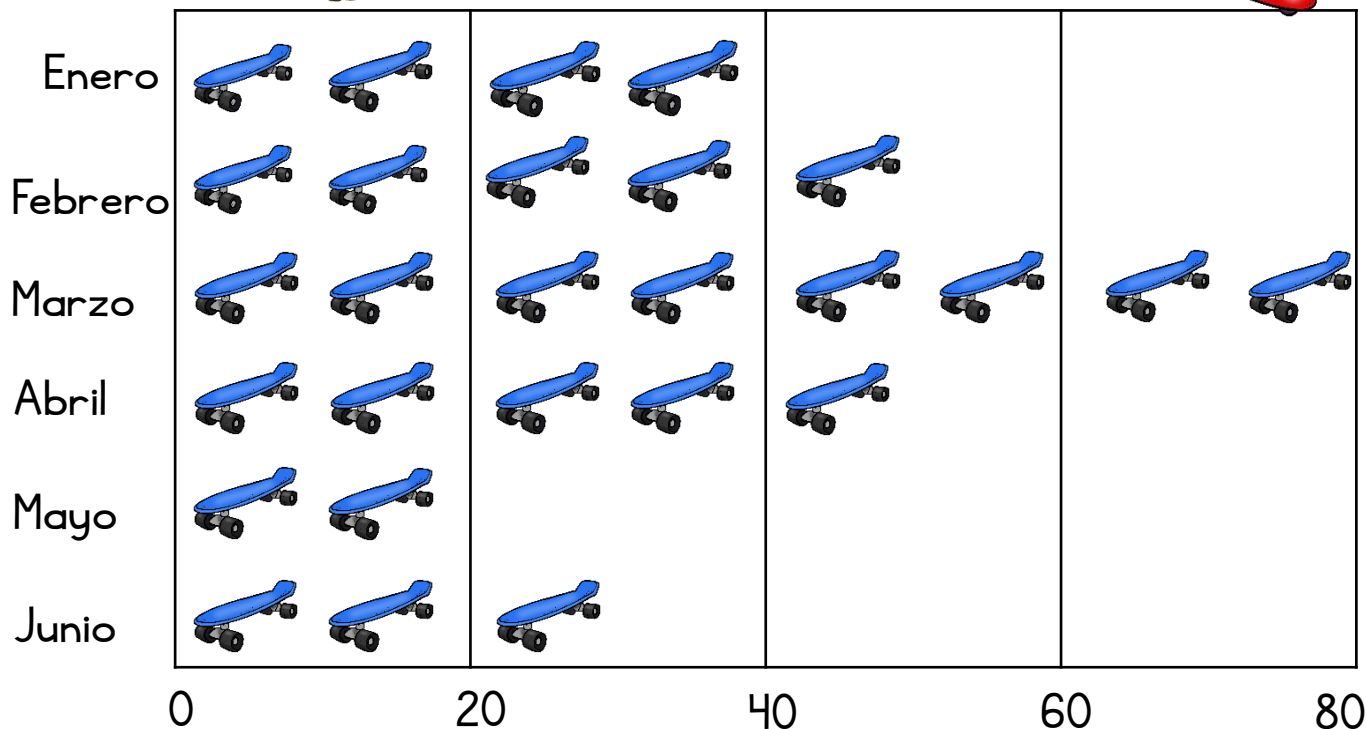
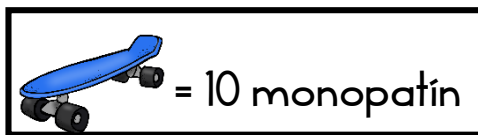
□	□
□	□
□	□

Nombre: _____ Fecha: _____



Obtén datos de un pictograma.

Actividades
de
Infantil y Primaria



¿Cuántas monopatines se han vendido cada mes?

enero

febrero

marzo

abril

mayo

junio

¿Cuántas monopatines se han vendido en total entre abril y junio?

<input type="text"/>	<input type="text"/>
<input type="text"/>	<input type="text"/>
<input type="text"/>	<input type="text"/>

Se han vendido _____ monopatines

¿Cuántos monopatines se han vendido menos en junio que en enero?

<input type="text"/>	<input type="text"/>
<input type="text"/>	<input type="text"/>
<input type="text"/>	<input type="text"/>

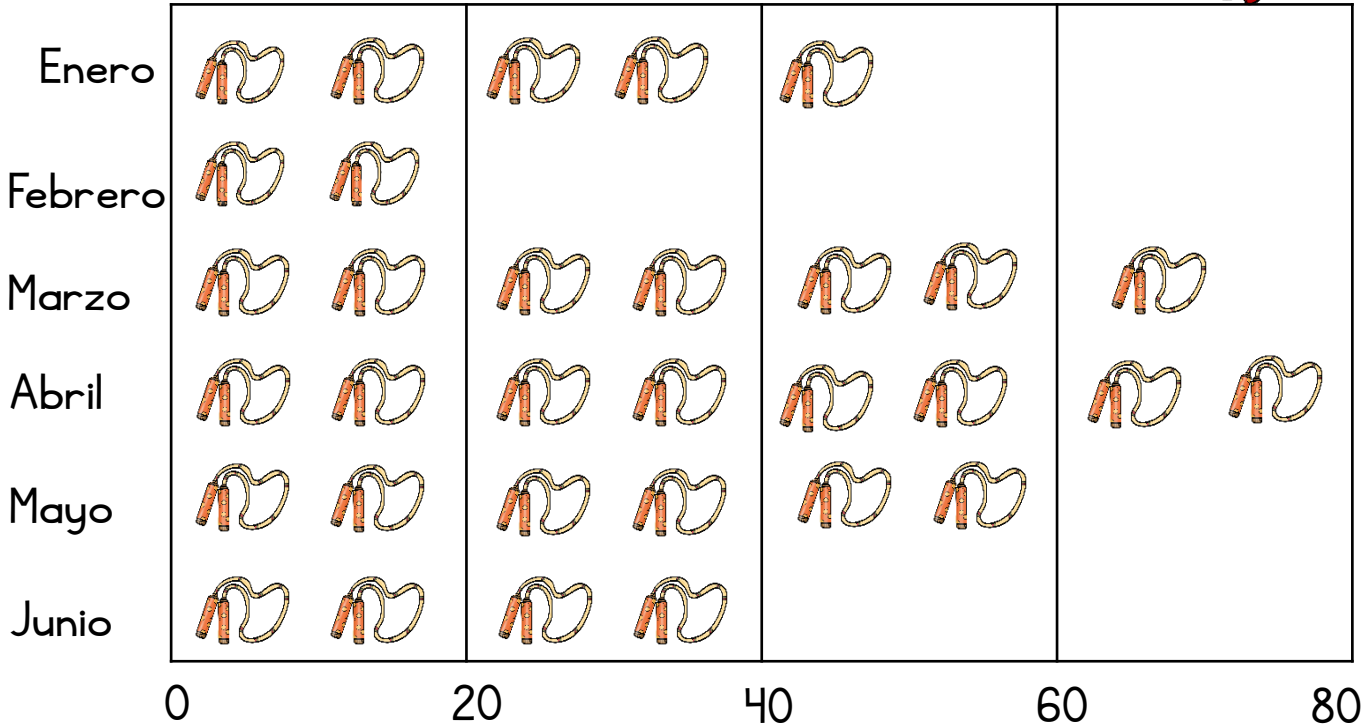
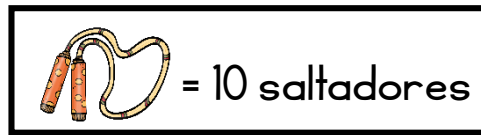
Se han vendido _____ monopatines menos

Nombre: _____ Fecha: _____



Obtén datos de un pictograma.

Actividades
de
Infantil y Primaria



¿Cuántos saltadores se han vendido cada mes?

enero

febrero

marzo

abril

mayo

junio



¿Cuántas saltadores se han vendido en total entre enero y junio?

Se han vendido _____ saltadores



¿Cuántas saltadores se han vendido más en abril que en mayo?

Se han vendido _____ saltadores más
