

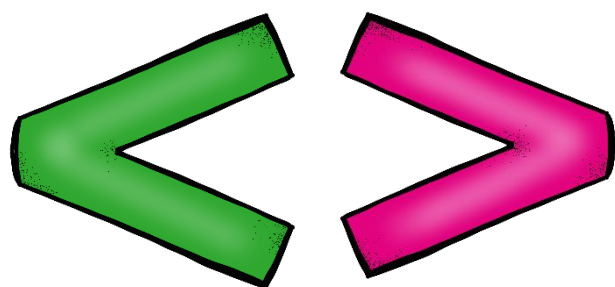


Actividades matemáticas para primaria


Actividades
de
Infantil y **P**rimaria



Comparar números de dos cifras. Usar los signos



24 es menor que 35



68 es mayor que 31

54 90 25 20 90 45

17 80 65 70 86 69

43 41 93 80 37 39

Escribe el anterior y el siguiente

→ 80 → → 29 →

→ 49 → → 75 →

→ 35 → → 68 →

→ 16 → → 91 →

Ordena los números del mas pequeño al más grande.

20 41 16 50 23
 < < < <

74 82 10 35 97
 < < < <

Completa la serie.

Escribe el numero que corresponda. Estimar cantidades.

10 23 20

Sumar 3 números de una cifra



$$\begin{array}{r} 5 \\ 2 \\ + 3 \\ \hline \end{array} > \boxed{7}$$

$$\begin{array}{r} 4 \\ 1 \\ + 3 \\ \hline \end{array} > \square$$

$$\begin{array}{r} 5 \\ 4 \\ + 5 \\ \hline \end{array} > \square$$

$$\begin{array}{r} 6 \\ 5 \\ + 3 \\ \hline \end{array} > \square$$

$$\begin{array}{r} 9 \\ 6 \\ + 3 \\ \hline \end{array} > \square$$

$$\begin{array}{r} 7 \\ 1 \\ + 3 \\ \hline \end{array} > \square$$

$$\begin{array}{r} 6 \\ 5 \\ + 4 \\ \hline \end{array} > \square$$

$$\begin{array}{r} 8 \\ 2 \\ + 1 \\ \hline \end{array} > \square$$

$9 + 1 + 5 = \text{-----}$

∨

$8 + 3 + 5 = \text{-----}$

∨

$7 + 2 + 4 = \text{-----}$

∨

$6 + 2 + 3 = \text{-----}$

∨



Sumar 3 números de dos cifras.

$$\begin{array}{r} 25 \\ 22 \\ +13 \\ \hline \end{array}$$

$$\begin{array}{r} 34 \\ 11 \\ + 3 \\ \hline \end{array}$$

$$\begin{array}{r} 15 \\ 14 \\ +25 \\ \hline \end{array}$$

$$\begin{array}{r} 16 \\ 5 \\ +43 \\ \hline \end{array}$$

$$\begin{array}{r} 20 \\ 37 \\ + 2 \\ \hline \end{array}$$

$$\begin{array}{r} 37 \\ 21 \\ +13 \\ \hline \end{array}$$

$$\begin{array}{r} 46 \\ 5 \\ +24 \\ \hline \end{array}$$

$$\begin{array}{r} 28 \\ 22 \\ +10 \\ \hline \end{array}$$

Calcula.

Calculo mental. Sumar decenas y unidades

$40 + 10 + 2 = \dots\dots\dots$

$60 + 5 + 5 = \dots\dots\dots$

$30 + 10 + 5 = \dots\dots\dots$

$70 + 10 + 2 = \dots\dots\dots$

$20 + 10 + 5 = \dots\dots\dots$


$50 + 20 + 1 = \dots\dots\dots$

Escoge la operación




Hay 23 gatos negros y 15 blancos. ¿Cuántos hay en total?

En total hay



Hay 40 vacas. 17 son negras. ¿Cuántas hay de blancas?

Hay



Hay 38 vacas. 23 son blancas. ¿Cuántas hay de negras?

Hay

