



Vamos a comparar números.

Segundo de Primaria



Actividades  
de  
Infantil y Primaria



© 2014

© 2014

Nombre: \_\_\_\_\_ Fecha: \_\_\_\_\_

Marca el valor o el significado del dígito subrayado



6 <u>3</u> 5	30	300	3
24 <u>6</u>	6 unidades	6 decenas	6 centenas
16 <u>4</u>	40	400	4
<u>4</u> 68	4 centenas	4 decenas	4 unidades

Escribe la forma de cada número



157	_____ + _____ + _____
587	_____ + _____ + _____
369	_____ + _____ + _____

Escribe los números

100 más que 650 son: \_\_\_\_\_


10 menos que 258 son: \_\_\_\_\_

100 menos que 520 son: \_\_\_\_\_




Nombre: \_\_\_\_\_ Fecha: \_\_\_\_\_

Compara usando los signos




640	<input type="checkbox"/>	690	327	<input type="checkbox"/>	323
152	<input type="checkbox"/>	130	915	<input type="checkbox"/>	908
515	<input type="checkbox"/>	590	715	<input type="checkbox"/>	735
450	<input type="checkbox"/>	435	248	<input type="checkbox"/>	290



Escribe un número en la línea para que sea verdad.



_____  580	_____  487
_____  760	_____  150
_____  358	_____  645

Escribe los números en letras



689	
530	
267	

Nombre: \_\_\_\_\_ Fecha: \_\_\_\_\_

Escribe el signo   según corresponda

$500+15+10$	<input type="radio"/>	$500+20+5$
$200+ 8 +8$	<input type="radio"/>	$200+10+5$
$300+15+5$	<input type="radio"/>	$300+20+15$



Escribe la forma de cada número

485	_____ + _____ + _____ _____ + _____ + _____
167	_____ + _____ + _____ _____ + _____ + _____
989	_____ + _____ + _____ _____ + _____ + _____


Escribe los números en letras



248	
360	
490	

Nombre: \_\_\_\_\_ Fecha: \_\_\_\_\_

Compara usando los signos



320	<input type="checkbox"/>	790	527	<input type="checkbox"/>	621
562	<input type="checkbox"/>	456	418	<input type="checkbox"/>	398
116	<input type="checkbox"/>	395	237	<input type="checkbox"/>	197
680	<input type="checkbox"/>	289	611	<input type="checkbox"/>	366



Escribe un número en la línea para que sea verdad.

_____  733	_____  333
_____  165	_____  867
_____  268	_____  215

Escribe los números en letras



375	
752	
189	