

# Aprendemos a contar con monedas



¿Cuántas monedas necesitas para pagar el precio exacto?  
 Marca con una X la respuesta correcta.



1,50€



0,95€


















¿Cuántas monedas necesitas para pagar el precio exacto?  
 Marca con una X la respuesta correcta.



3,65€



2,30€









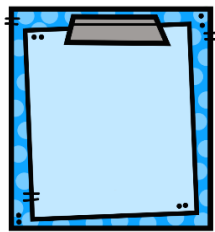




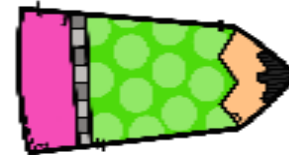




¿Cuántas monedas necesitas para pagar el precio exacto?  
 Marca con una X la respuesta correcta.



5€



0,80€


















¿Cuántas monedas necesitas para pagar el precio exacto?  
 Marca con una X la respuesta correcta.



1,20€



4,10€















